

PRACOVNÝ LIST pre žiakov 6. ročníka **Správne odpovede**

PESTOVATEĽ POĽNÝCH PLODÍN A ZELENINY

1. Označ plodinu, ktorá je strukovina:

- šošovica
- mrkva
- hrach
- kukurica
- fazuľa




2. Plod hrachu sa volá: (**struk**)

Nakresli struk a semeno hrachu.



Struk



semeno hrachu

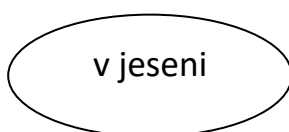
3. Napíš plodinu, z ktorej sa vyrába cukor (**repa**)

Repa je to zhrubnutý (**koreň**)

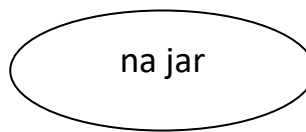
4. Označ plodinu, ktorá dáva pivu horkosť:

- Cvikla
- **Chmeľ**
- Jačmeň
- Cesnak

5. Obilniny delíme na jariny a oziminy. Označ kedy sa sejú:



oziminy



jariny